

제 4 교시


직업탐구 영역(상업 경제)

성명

수험 번호

제 [    ] 선택

1. 다음은 은행 예금과 관련된 부녀 간의 대화 장면이다. (가)에 들어갈 내용으로 적절한 것은?



- ① 콜론                      ② 콜머니                      ③ 별단 예금
- ④ 지급 준비금            ⑤ 자금 조정 예금

2. 다음 기사에 나타난 △△(주)가 도입하게 될 경영 혁신 기법으로 적절한 것은?

△△(주)는 글로벌 복합 리조트 도약을 위한 프로젝트 중 하나인 탄광 문화 연계 사업 성공을 위하여 오스트리아와 독일을 방문해서 폐광 도시에서 문화 도시로 탈바꿈한 도시 재생 성공 사례의 요인을 조사하였다. △△(주)는 이런 성공 사례의 요인을 자사에 적용하여 사라져 가는 국내 탄광 문화를 보존하면서 폐광 문화 연계 관광 콘텐츠 발굴에 힘을 계획이다.

- ○○신문, 2024년 6월 4일 자 -

- ① 아웃소싱                      ② 벤치마킹
- ③ 다운사이징                      ④ 전략적 제휴
- ⑤ 리스트럭처링

3. 다음 (가), (나)에 공통으로 들어갈 상업 조성 기관으로 옳은 것은?

• 관세청은 관세의 부과·감면·징수와 수출입 물품의 통관에 관한 사무를 관장한다. 이의 사무를 관장하기 위해 관세청 소속하에 (가) 을/를 둔다.

- 관세청과 그 소속기관 직제 제2조·3조 일부 -

• (나) 은/는 국내 산업 보호와 재정 수입 확보를 위해 조세를 부과하고 징수하는 등 무역을 관리하는 국가 기관으로, 수출입 화물에 대한 검사 및 허가 등의 업무를 수행한다.

- ① 세관                                      ② 한국무역협회
- ③ 공정거래위원회                      ④ 대한상공회의소
- ⑤ 대한무역투자진흥공사

4. 다음 (가)에 나타난 경제 상황을 해결하기 위해, 현재의 한국은행이 취할 수 있는 통화 정책 중 (나)에 해당하는 정책으로 적절한 것만을 <보기>에서 고른 것은? [3점]

(가) 조선 후기에 쓰였던 화폐인 당백전은 기존에 쓰던 상평통보보다 명목상의 가치는 100배에 달했지만 소재 가치\*는 5~6배에 지나지 않아 많은 양을 찍어낼 수 있었다. 이에 따라 시중에 화폐량이 증가하였고, 물건 값이 올라 백성들의 생활이 궁핍해졌다.

- 『○○백과사전』 일부 수정 -

(나) 한국은행은 시중 유동성 조절을 위해 금융 시장에서 금융 기관을 상대로 증권을 사고파는 통화 정책을 사용한다.

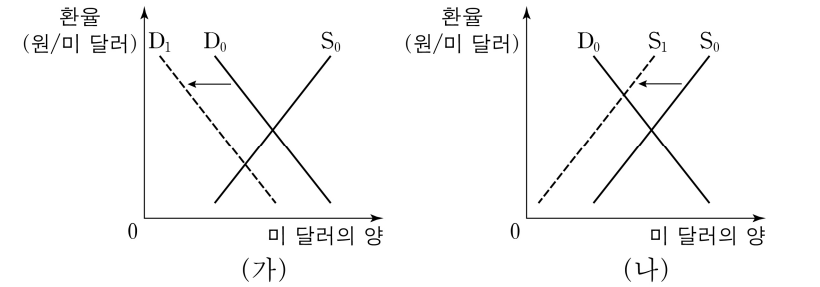
\* 소재 가치: 화폐를 만드는 데 들어가는 재료의 값



- <보 기>
- ㄱ. RP 매입                                      ㄴ. 국채 매각
- ㄷ. 기준금리 인상                                      ㄹ. 통화안정증권 발행

- ① ㄱ, ㄴ                      ② ㄱ, ㄷ                      ③ ㄴ, ㄷ                      ④ ㄴ, ㄹ                      ⑤ ㄷ, ㄹ

5. 그래프 (가), (나)는 미 달러화의 수요와 공급에 따른 원/미 달러 환율 변동을 나타낸 것이다. 이에 대한 설명으로 적절하지 않은 것은? (단, 환율은 수요와 공급의 법칙을 따르며, 환율 변동만 고려한다.) [3점]



- ① (가)의 환율 변동 원인에는 '우리나라 기업의 미국 상품 수입 감소'가 있을 수 있다.
- ② (가)의 환율 변동에 따라 우리나라의 달러화 표시 대미 외채 상환 부담은 줄어들 것이다.
- ③ (나)의 환율 변동 원인에는 '우리나라 투자자의 미국 주식 시장 투자 규모 증가'가 있을 수 있다.
- ④ (나)의 환율 변동에 따라 원화 대비 미 달러화의 가치는 상승할 것이다.
- ⑤ 미국 시장에서 우리나라 상품의 가격 경쟁력은 (가)의 환율 변동 상황에서 낮아질 것이고, (나)의 상황에서 높아질 것이다.

## 2 (상업 경제)

## 직업탐구 영역

6. 다음은 ○○(주)의 NCS 기반 채용 공고문의 일부이다. 직무 분야의 능력 단위 요소가 포함되는 기업의 부문별 활동으로 적절한 것은?

NCS 기반 채용 공고문	
○○(주)	
• 모집 인원: △△명 • 모집 대상: 특성화고 졸업자 또는 졸업 예정자 • 직무 분야	
NCS 분류 번호	능력 단위 요소
0202020109_23v5	• 급여대장 등록하기 • 근태관리 하기 • 급여 계산하기 • 4대보험 관리하기

- ① 재고 관리를 위해 적정 재고량을 파악한다.
- ② 생산 공정 관리를 위해 기계 설비를 점검한다.
- ③ 소비자의 욕구 파악을 위해 시장 조사를 실시한다.
- ④ 기업의 유동성 등을 파악하기 위한 자료를 분석한다.
- ⑤ 신입 사원을 모집 및 선발하기 위한 직무를 분석한다.

7. 다음 ○○(주)가 도입한 마케팅 관리 기법에 대한 설명으로 적절한 것만을 <보기>에서 고른 것은?

온라인 판매 업체인 ○○(주)는 고객들의 요구를 반영하여 차별화된 온라인 서비스를 도입하였다. 이 서비스는 연령, 사이즈, 선호 스타일 등 등록된 고객 정보를 활용하여 스타일리스트가 직접 코디한 의류를 추천해 준다. 이와 같이 ○○(주)는 고객의 특성에 맞는 마케팅 활동을 통해 고객과 우호적인 관계를 지속적으로 강화하고 있다.

<보 기>

- ㄱ. 상품 매입 원가의 절감을 목적으로 한다.
- ㄴ. 공중 관계(PR) 활동을 통해 판매를 촉진한다.
- ㄷ. 고객 정보를 활용하여 맞춤형 상품을 추천한다.
- ㄹ. 고객 만족을 통한 고객 충성도 강화에 중점을 둔다.

- ① ㄱ, ㄴ    ② ㄱ, ㄷ    ③ ㄴ, ㄷ    ④ ㄴ, ㄹ    ⑤ ㄷ, ㄹ

8. 다음은 A기업의 유통 경로 정책 변경 내용이다. [변경 전] 대비 [변경 후]에 나타날 수 있는 현상으로 적절한 것만을 <보기>에서 고른 것은?

[변경 전]

온라인 업체뿐 아니라 마트 등 자사 상품 취급을 희망하는 모든 점포에 자사의 상품을 판매할 수 있도록 함.



[변경 후]

자사 상품 취급을 희망하는 모든 점포가 아닌 일정한 자격을 갖춘 점포들만 자사의 상품을 판매할 수 있도록 함.

<보 기>

- ㄱ. A기업의 상품을 취급하는 점포 간의 경쟁은 약화될 것이다.
- ㄴ. A기업의 상품을 구입하려는 고객의 점포 접근이 쉬워질 것이다.
- ㄷ. A기업은 자사 상품 취급 점포에 대한 통제력을 강화할 수 있을 것이다.
- ㄹ. A기업 상품이 점포를 통해 고객에게 노출되는 빈도는 증가될 것이다.

- ① ㄱ, ㄴ    ② ㄱ, ㄷ    ③ ㄴ, ㄷ    ④ ㄴ, ㄹ    ⑤ ㄷ, ㄹ

[9~10] 다음은 A, B 씨의 투자 상황이다. 물음에 답하시오.

투자자	투자 상황
A 씨	○○기업의 기업 공개 과정을 통해 신규 발행되는 공모주에 청약하여 10주를 배정받았다.
B 씨	한국거래소에 상장된 증권 중에서 △△기업이 원금과 이자의 지급을 약속한 증권을 한국거래소 시장에서 매입하였다.

9. 위 A, B 씨의 투자가 이루어진 증권 시장으로 적절한 것은?

	A 씨 투자	B 씨 투자
①	발행 시장	유통 시장
②	발행 시장	장외 시장
③	장외 시장	유통 시장
④	장외 시장	장내 시장
⑤	장내 시장	장외 시장

10. 위 A 씨가 투자한 증권과 다음 갑 씨가 발행한 증권 간의 차이점으로 적절한 것만을 <보기>에서 있는 대로 고른 것은? [3점]

갑 씨는 은행에서 교부받은 용지에 자신의 개인 명의로 된 예금 잔액 범위 내에서 발행 한도액에 맞춰 지급지, 발행일 등 필요 사항을 기재하고 증권을 발행하였다.

<보 기>

- ㄱ. 양도가 가능한지 여부
- ㄴ. 자본 조달을 위한 목적으로 발행하는지 여부
- ㄷ. 재산적 가치를 지니는 권리를 표시하는지 여부

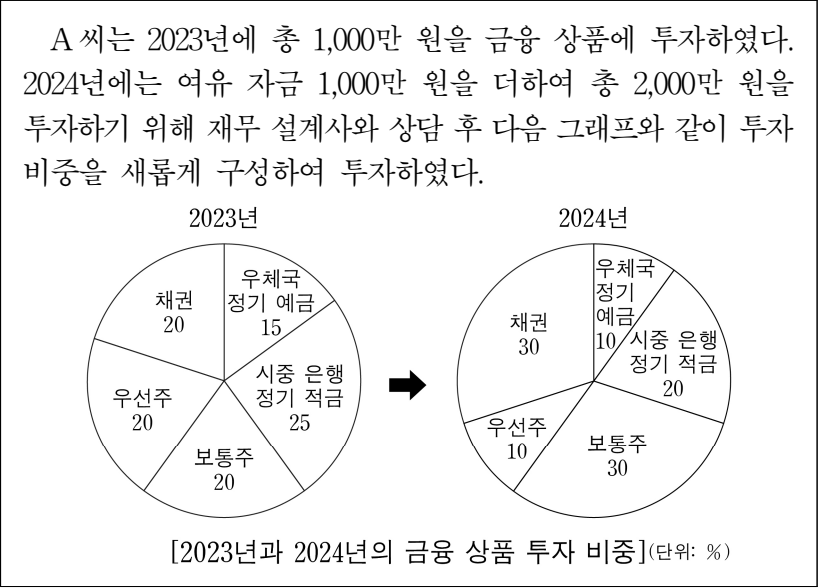
- ① ㄱ    ② ㄴ    ③ ㄱ, ㄷ    ④ ㄴ, ㄷ    ⑤ ㄱ, ㄴ, ㄷ

11. 표는 A국의 입장에서 본 무역 종류 (가)~(다)의 사례를 나타낸 것이다. 이에 대한 설명으로 적절하지 않은 것은? [3점]

무역 종류	사례
(가)	A국은 수출국인 B국과 수입국인 C국 간 무역 거래를 알선하였다.
(나)	B국에서 C국으로 수출되는 상품이 A국을 경유하여 수출되었다.
(다)	A국은 B국으로부터 상품을 수입하여 가공하지 않고 원형 그대로 C국에 수출하였다.

- ① (가) 무역을 통해 A국은 중개 수수료를 획득한다.
- ② (나) 무역을 통해 A국은 하역비, 보관료 등의 수수료를 획득한다.
- ③ (다) 무역을 통해 A국은 수출입 차액을 획득한다.
- ④ (나), (다) 무역은 A~C국의 수출입 균형을 목적으로 하는 무역이다.
- ⑤ (가)~(다) 무역은 간접 무역에 해당한다.

12. 다음은 A 씨의 2023년, 2024년 투자 금액과 금융 상품별 투자 비중 내역이다. 이를 분석한 내용으로 옳은 것만을 <보기>에서 고른 것은? [3점]



- <보 기>
- ㄱ. 2023년에 투자한 금융 상품 중 예금자보호법이 적용되는 상품의 비중은 그렇지 않은 상품의 비중보다 50%p 작다.
  - ㄴ. 2024년에 투자한 금융 상품 중 이자를 받을 수 있는 상품의 금액은 배당을 받을 수 있는 상품의 금액보다 400만 원 크다.
  - ㄷ. 2023년 대비 2024년 직접 금융에 해당하는 금융 상품에 투자한 비중은 10%p 감소하였다.
  - ㄹ. 2023년 대비 2024년 매월 일정 금액을 예입하는 금융 상품에 투자한 금액은 200만 원 증가하였다.

① ㄱ, ㄴ    ② ㄱ, ㄷ    ③ ㄴ, ㄷ    ④ ㄴ, ㄹ    ⑤ ㄷ, ㄹ

13. 다음은 우리나라 ○○외식(주)의 [SWOT 분석 자료]와 이를 토대로 수립한 [마케팅 믹스 전략]의 일부이다. 이를 분석한 내용으로 적절한 것만을 <보기>에서 있는 대로 고른 것은? [3점]

[SWOT 분석 자료] ○○외식(주)

• 고품질의 한국식 디저트라는 높은 브랜드 가치	• 특정 계절에만 국한된 디저트 메뉴 구성
• 다수의 국내 가맹점 운영 노하우 축적	• 경쟁 기업 대비 상품 다양성 부족
S	W
O	T
• 건강에 대한 소비자 관심의 지속적 증가	• 서구식 디저트 선호 고객 증가
• 해외 소비자들 K-푸드 관심 증가	• 품질 대비 비싼 디저트 가격에 대한 부정적 인식

↓

[마케팅 믹스 전략]

(가) 사계절 즐길 수 있는 건강식 디저트 신메뉴를 개발한다.

(나) 고가격에 부합하는 높은 품질의 식재료를 사용한 프리미엄 디저트임을 강조하는 광고를 실시한다.

- <보 기>
- ㄱ. (가)는 WO전략, (나)는 ST전략을 활용하였다.
  - ㄴ. (가)와 (나)에는 제품 전략과 유통 전략을 모두 활용하였다.
  - ㄷ. SO전략을 통해 해외 시장에 진출하고자 할 때, 국제 프랜차이즈 전략을 활용할 수 있다.

① ㄱ    ② ㄴ    ③ ㄱ, ㄷ    ④ ㄴ, ㄷ    ⑤ ㄱ, ㄴ, ㄷ

14. 다음 ○○패션(주)가 [컨설팅 의견]을 반영할 경우 도입하게 될 물류 정보화 기술로 옳은 것은?

○○패션(주) 경영 컨설팅 보고서

[현재 상황]

- 물류 정보 시스템이 구축되어 있지 않아 상품을 효율적으로 처리하기 어려움.

[컨설팅 의견]

- 박스에 전자 태그를 부착하고 전파를 이용하여 박스 내부의 상품 정보를 인식할 수 있는 시스템 도입이 필요함.
- 이 시스템을 통해 전자 태그가 부착된 상품의 입출고, 반품을 통합적으로 처리하여 업무 효율성이 향상될 것으로 기대됨.

- ① 전자 문서 교환(EDI)    ② 전사적 자원 관리(ERP)  
③ 위치 측정 시스템(GPS)    ④ 무선 주파수 식별(RFID)  
⑤ 첨단 화물 운송 시스템(CVO)

15. 다음은 A~C국의 [2022년 생산품 현황]과 [2023년 생산품의 대당 가격 및 수입 관세율]을 나타낸 것이다. A~C국에서 나타나는 경제 현상으로 적절한 것만을 <보기>에서 있는 대로 고른 것은? (단, GDP 기준 연도는 2022년이고, 냉장고와 세탁기만을 생산하며, 경제 통합 형태는 B. Balassa의 분류에 따른다.) [3점]

[2022년 생산품 현황]

- A~C국은 냉장고와 세탁기를 수출입하지 않고 각각 생산하여 소비하고 있다.

구분	A 국		B 국		C 국	
	냉장고	세탁기	냉장고	세탁기	냉장고	세탁기
대당 가격	\$100	\$200	\$150	\$250	\$150	\$300
생산량	100대	50대	100대	100대	50대	50대

[2023년 생산품의 대당 가격 및 수입 관세율]

- A~C국은 자국 생산품의 대당 가격과 수입 가격\*을 비교하여 수입 여부\*\* 및 수입국을 최저 가격으로 결정하고 있다.

\* 수입 가격 = 대당 가격 + 수입 관세, 수입 관세 = 대당 가격 × 수입 관세율

\*\* 자국 대당 가격이 수입 가격보다 크면 수입, 그 반대인 경우 수입하지 않음.

구분	A 국		B 국		C 국	
	냉장고	세탁기	냉장고	세탁기	냉장고	세탁기
대당 가격	\$100	\$200	\$150	\$290	\$150	\$300
수입 관세율	100%	200%	100%	100%	100%	200%

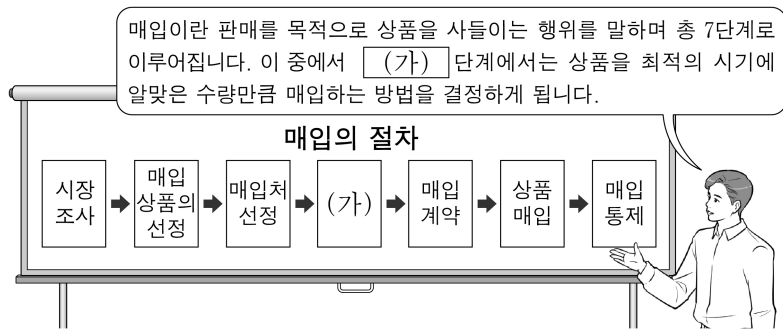
• A 국과 C 국은 FTA를 체결하여 수입 관세를 철폐하였다.

- <보 기>
- ㄱ. 2022년 A~C 국 중 명목 GDP와 실질 GDP는 모두 A 국이 가장 작다.
  - ㄴ. 2023년 B 국이 냉장고와 세탁기를 각각 100대씩 생산하면 경제 성장률은 10%이다.
  - ㄷ. 2022년 대비 2023년 C 국은 무역 창출 효과가 발생한다.

① ㄱ    ② ㄴ    ③ ㄱ, ㄷ    ④ ㄴ, ㄷ    ⑤ ㄱ, ㄴ, ㄷ



16. 다음은 매입의 절차와 관련된 수업 장면이다. (가) 단계에 해당하는 활동으로 가장 적절한 것은?



- ① 상품을 인수하고 대금을 결제한다.
- ② 재고 비용, 상품 회전율 등을 반영한다.
- ③ 신용 상태, 인지도 등 제반사항을 고려한다.
- ④ 매매와 관련된 법률의 규정, 매매 관행 등을 조사한다.
- ⑤ 판매 실적과 목표 간의 차이를 비교하고 원인을 분석한다.

- [17~18] 다음은 ○○(주)와 △△(주)의 무역 거래 내용이다. 물음에 답하시오.

우리나라 ○○(주)는 미국 △△(주)와 사과를 수출하고 쌀을 수입하는 수출입 계약을 체결하였다.

구분	수출 계약서	수입 계약서
품명	사과	쌀
수량 조건	1,000box	10ton
품질 조건	FAQ	FAQ
가격 조건	US \$10,000 FOB BUSAN	US \$6,000 CIF BUSAN
대금 결제	D/P	D/A
보험 조건	ICC(A)	ICC(C)

한편, △△(주)는 ○○(주)에 수출입할 때 A 선박 회사로부터 선박만 빌린 후 선박 운항에 필요한 물자와 선원, 제 비용 등을 △△(주)가 부담하는 방법으로 운송 계약을 체결하였다.

17. 위 수출입 계약 조건에 대한 설명으로 적절한 것만을 <보기>에서 고른 것은? (단, 가격 조건은 인코텀스 2010에 의한다.) [3점]

<보 기>

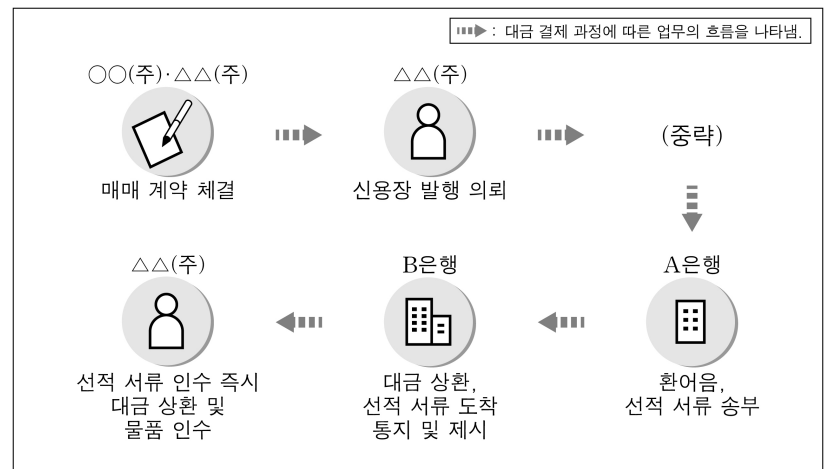
- ㄱ. 수출 물품과 수입 물품의 위험 분기점은 부산항의 본선 상으로 동일하다.
- ㄴ. 수출 및 수입 거래 시 물품의 품질 결정 시기는 선적 시점으로 동일하다.
- ㄷ. ○○(주)는 수출 시 △△(주)가 보험 회사와 체결한 적하 보험의 피보험자가 된다.
- ㄹ. 대금 결제 과정에서 ○○(주)는 수출 시 환어음의 발행인이 되고, 수입 시 환어음의 지급인이 된다.

- ① ㄱ, ㄴ    ② ㄱ, ㄷ    ③ ㄴ, ㄷ    ④ ㄴ, ㄹ    ⑤ ㄷ, ㄹ

18. 위 △△(주)가 A 선박 회사와 계약을 체결한 해상 운송의 종류로 옳은 것은?

- ① 나용선                      ② 기간 용선                      ③ 항해 용선
- ④ 정기선 운송                ⑤ 정기 항로 운송

19. 그림은 신용장에 의한 대금 결제 과정의 일부이다. 이를 통해 알 수 있는 신용장 당사자가 수행한 업무를 유추한 것으로 적절한 것만을 <보기>에서 있는 대로 고른 것은? (단, 가격 조건은 인코텀스 2010의 CFR로 한다.) [3점]



<보 기>

- ㄱ. ○○(주)는 선박 회사에 선적 요청서를 제시하였다.
- ㄴ. △△(주)는 수출국의 수출 통관 절차를 이행하였다.
- ㄷ. A은행은 매입 은행, B은행은 발행 은행의 역할을 수행하였다.

- ① ㄱ    ② ㄴ    ③ ㄱ, ㄷ    ④ ㄴ, ㄷ    ⑤ ㄱ, ㄴ, ㄷ

20. 다음은 ○○국의 [1월 국제 수지]와 2월 대외 거래를 반영한 [2월 국제 수지 누계 분석]의 일부이다. ○○국의 2월 대외 거래를 유추한 내용으로 적절한 것은? (단, 모든 거래는 거주자와 비거주자 간의 거래이며, 오차 및 누락은 0이다.) [3점]

[1월 국제 수지]		[2월 국제 수지 누계* 분석]	
(단위: 억 달러)			
상품 수지	20	• 경상 수지는 9억 달러 흑자를 기록	
서비스 수지	-5	- 상품 수지는 25억 달러 흑자	
본원 소득 수지	2	- 서비스 수지는 4억 달러 적자	
이전 소득 수지	-6	- 본원 소득 수지는 3억 달러 적자	(중략)
자본 수지	-1	• 자본 수지는 2억 달러 흑자를 기록	
금융 계정	10	• 금융 계정은 11억 달러(순자산 증가)	

\* [1월 국제 수지]에 2월 대외 거래를 반영한 누계

- ① 외국에 대가 없이 일방적으로 이전한 거래는 3억 달러 흑자였을 것이다.
- ② 외국에서 수취한 배당금이 속한 수지의 거래는 3억 달러 적자였을 것이다.
- ③ 외국에 판매권을 처분한 금액이 속한 수지의 거래는 2억 달러 흑자였을 것이다.
- ④ 외국의 보험사에 납입한 보험료가 속한 수지의 거래는 1억 달러 흑자였을 것이다.
- ⑤ 외국으로 수출한 상품 금액은 외국으로부터 수입한 상품 금액보다 5억 달러 적었을 것이다.

\* 확인 사항

- 답안지의 해당란에 필요한 내용을 정확히 기입(표기)했는지 확인하시오.